

PRÁCTICA (C)

Estudios Sociales

Para la prueba N°.2
Bachillerato a tu medida
2019

Recomendaciones para realizar la práctica

1. Esta práctica contiene 50 ítems de selección única.
2. Lea cuidadosamente cada uno de los ítems.
3. Resuelva cada ítem y elija una respuesta de las cuatro opciones (A, B, C, D) que se le presentan.
4. Una vez realizada la práctica, revise sus respuestas con el solucionario que aparece al final.
5. Se le sugiere repasar los contenidos y objetivos que le presenten mayor dificultad, previo a la realización de la prueba.

SELECCIÓN ÚNICA

50 ITEMS

1) Lea la siguiente información:

Cordillera _____



- El pico más alto es el cerro Chirripó.
- Es la más extensa y ancha del eje montañoso de Costa Rica.
- Predomina el bosque tropical muy húmedo y los bosques nubosos, de roble y montanos, entre otros.

¿Cuál opción completa correctamente el esquema anterior?

- A) volcánica de Guanacaste
- B) volcánica Central
- C) de Talamanca
- D) de Tilarán

2) Lea la siguiente información:

1. Inexistencia de tectonismo.

2. La mayor altitud es el volcán Miravalles.

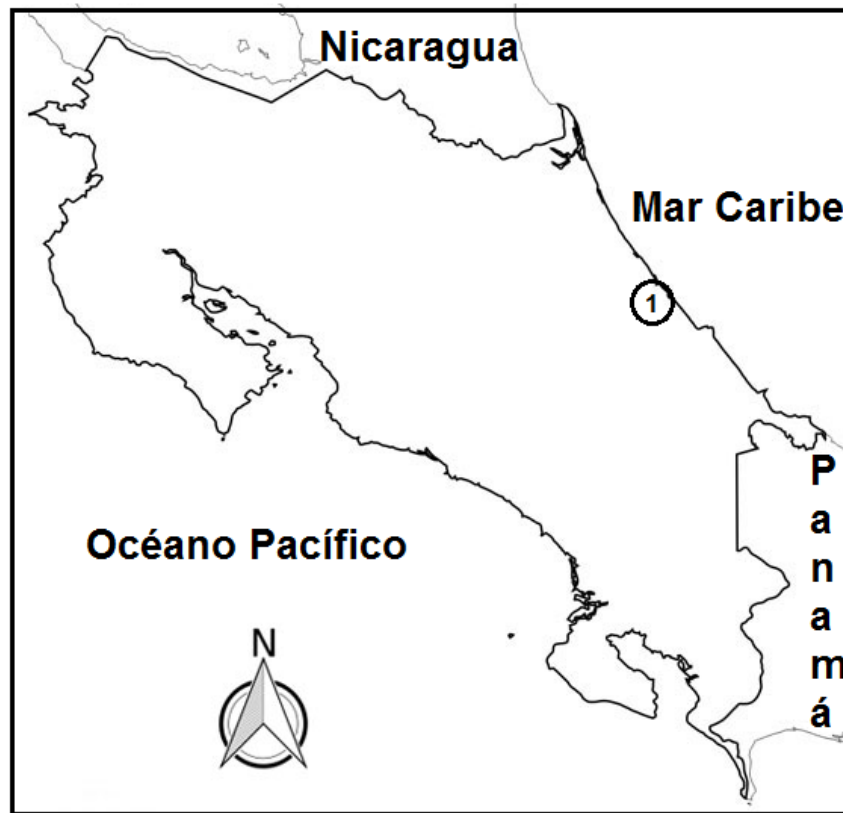
3. Se concentra el mayor número de reservas indígenas.

4. Entre los volcanes Barva e Irazú se ubica el paso de La Palma.

¿Cuál número de los anteriores identifica una característica de la cordillera volcánica Central?

- A) 1
- B) 2
- C) 3
- D) 4

3) Observe el siguiente croquis del mapa de Costa Rica:



En el croquis anterior, el número 1 identifica las llanuras del

- A) Norte.
 - B) Caribe.
 - C) Pacífico.
 - D) Atlántico.
- 4) ¿Cuál es una característica de los ríos de la subvertiente Norte de Costa Rica?
- A) Son cortos, accidentados y profundos.
 - B) Presentan diferencia de caudal a lo largo del año.
 - C) Se utilizan para la obtención de energía hidroeléctrica.
 - D) Desembocan en el lago de Nicaragua o en el río San Juan.

5) Lea la siguiente información:

Clima tropical muy húmedo en Costa Rica
<ul style="list-style-type: none">• Presenta abundantes precipitaciones a lo largo de todo el año.• Se localiza en las llanuras del noreste (San Carlos, Sarapiquí y Tortuguero), el Caribe y la península de Osa en el Pacífico Sur.• _____• _____

¿Cuál opción completa correctamente la información anterior?

- A) La flora y fauna son muy variadas y abundantes.
 - B) Las temperaturas son muy bajas y presenta lloviznas permanentes.
 - C) Los árboles desprenden las hojas durante la estación seca para evitar la pérdida de agua.
 - D) Algunas especies vegetales son el cornizuelo, la corteza amarilla, el guanacaste, el guapinol y el guarumo, entre otros.
- 6) En Costa Rica, los sectores como el volcán Irazú, el cerro Buena Vista o de La Muerte y el cerro Chirripó se presenta una vegetación enana, con hojas muy resistentes a las bajas temperaturas y a los fuertes vientos denominada
- A) sabana.
 - B) páramo.
 - C) pradera.
 - D) manglar.

7) Lea la siguiente información:

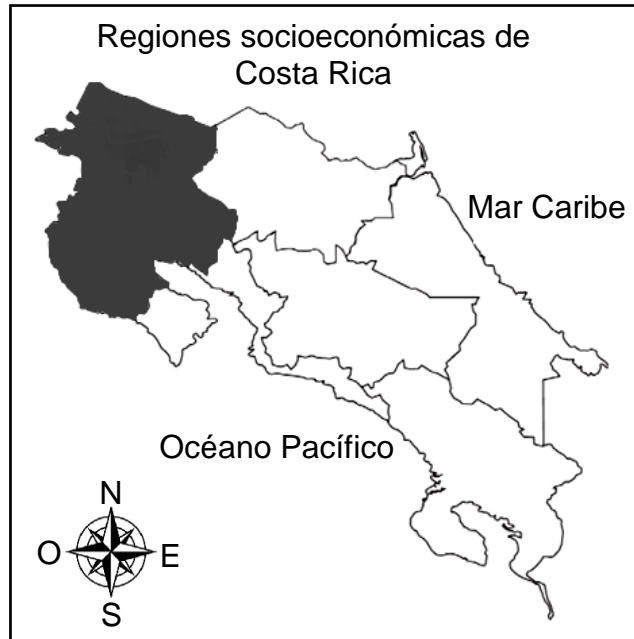
Criterios para definir las
regiones_____

Son definidas por tener características similares como sus recursos naturales (ríos, flora y fauna), pero también se toman en cuenta las actividades económicas y culturales, entre otras. En Costa Rica, el Ministerio de Planificación y Política Económica, **(MIDEPLAN)** es el encargado de definir este tipo de regiones.

¿Cuál opción completa correctamente la información anterior?

- A) físicas
- B) naturales
- C) funcionales
- D) socioeconómicas

8) Observe el siguiente croquis del mapa de Costa Rica:



La región socioeconómica que aparece sombreada en el croquis anterior se denomina

- A) Chorotega.
- B) Huetar Norte.
- C) Pacífico Central.
- D) Huetar Atlántica.

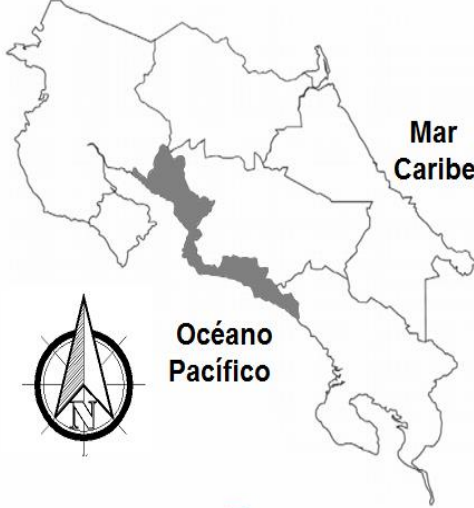
9) Lea las siguientes características:

- Es la más poblada de todas las regiones y es el centro económico y político del país.
- Constituye la zona de mayor desarrollo industrial y se concentran la mayor cantidad de instituciones del Estado.
- Algunas de sus principales actividades económicas son la agricultura de legumbres, hortalizas y la ganadería lechera.

¿A cuál región socioeconómica de Costa Rica se refieren las características anteriores?

- A) Brunca
- B) Central
- C) Huetar Norte
- D) Pacífico Central

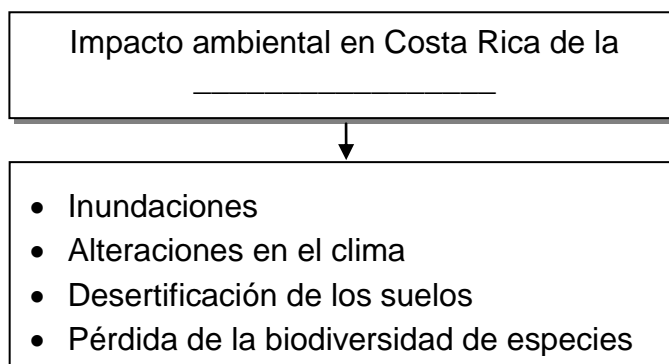
10) Lea la siguiente información:

<p style="text-align: center;">Problemática</p> <ul style="list-style-type: none">• Es evidente la contaminación del Golfo de Nicoya que afecta a los pescadores artesanales de la región.• Existen elevados niveles de desempleo y problemas de salud, este último se ve influenciado por la falta en la recolección de los desechos.• Se da el precarismo urbano, los problemas de delincuencia y el tráfico de drogas.	
--	--

La información anterior identifica la región denominada

- A) Pacífico Sur.
- B) Caribe Norte.
- C) Huetar Atlántica.
- D) Pacífico Central.


11) Lea la siguiente información:



¿Cuál opción completa correctamente la información anterior?

- A) silvicultura
- B) deforestación
- C) sobreproducción
- D) minería a cielo abierto

12) Observe las siguientes imágenes:



¿Cuál tipo de contaminación se identifica en las imágenes anteriores?

- A) Tecnológica
- B) Atmosférica
- C) Lumínica
- D) Hídrica

13) Lea la siguiente información:

«Es el proceso de adopción de políticas, estrategias y prácticas orientadas a evitar y reducir los riesgos de desastres o minimizar sus efectos».

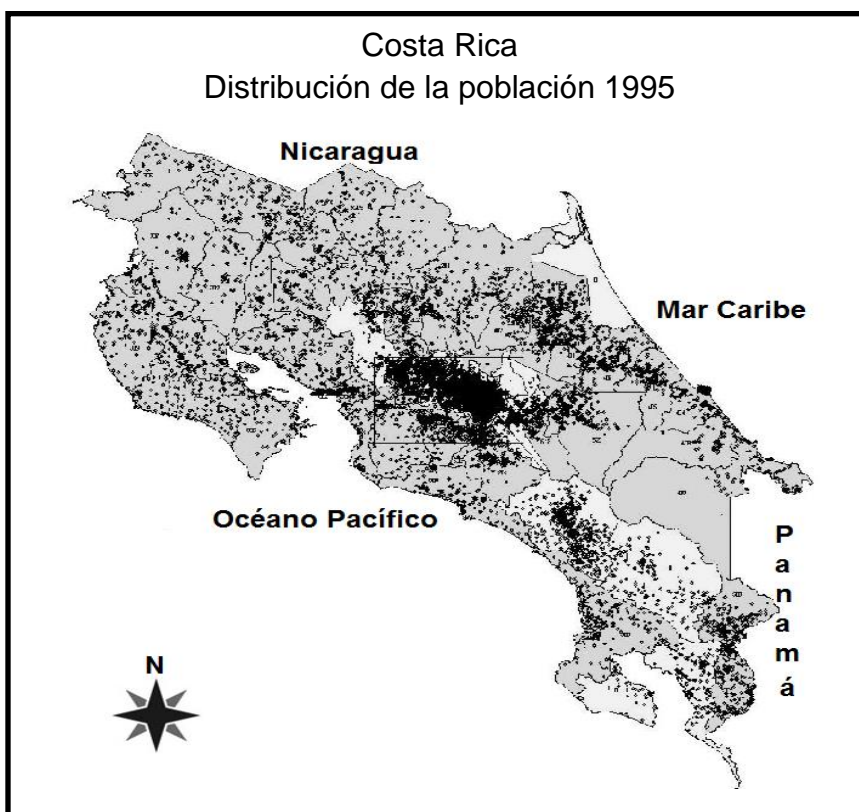
Recuperado de: <https://www.preventionweb.net/files/>

La información anterior hace referencia al concepto de

- A) gestión del riesgo.
- B) prevención del evento.
- C) mitigación del desastre.
- D) disminución de la vulnerabilidad.

- 14) El desarrollo humano sostenible es un proceso de cambio progresivo en la calidad de vida del ser humano que lo coloca como centro y sujeto primordial del desarrollo, además,
- A) prioriza el crecimiento de los sectores económicos más productivos.
 - B) se sustenta en el equilibrio ecológico y el soporte vital de la población.
 - C) busca la participación de las multinacionales en la toma de decisiones políticas.
 - D) desestimula la participación de los grupos minoritarios y comunitarios en la toma de decisiones.

- 15) Observe el siguiente croquis:



De acuerdo con el croquis anterior, las áreas de mayor densidad de población se concentran en

- A) la Gran Área Metropolitana.
- B) los sectores costeros.
- C) las zonas fronterizas.
- D) las tierras bajas.

16) Lea la siguiente información:

1. Formas del relieve.
2. Facilidad de transporte.
3. Acceso a fuentes de empleo.
4. Climas agradables para el ser humano.

¿Cuáles números de los anteriores identifican dos factores físicos o geográficos que han influido en la distribución de la población en Costa Rica?

- A) 1 y 2
- B) 1 y 4
- C) 2 y 3
- D) 3 y 4

17) Lea el siguiente texto:

Desplazamiento geográfico de las personas desde su lugar de origen a otro destino para tener una mejor alternativa en cuanto al aspecto económico y social.

Adaptado de <https://www.definicionabc.com>

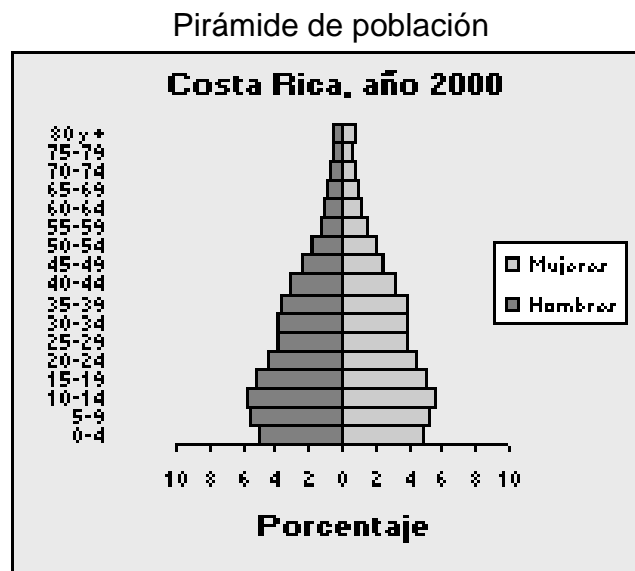
¿Cuál fenómeno demográfico se evidencia en la información anterior?

- A) crecimiento natural de la población.
- B) esperanza de vida.
- C) longevidad.
- D) migración.

18) ¿Cuál es una característica de la población costarricense en la actualidad?

- A) Descenso en la tasa de natalidad.
- B) Envejecimiento prematuro de la población.
- C) Inexistencia de la migración en las zonas rurales.
- D) Baja de la esperanza de vida en las áreas más pobladas.

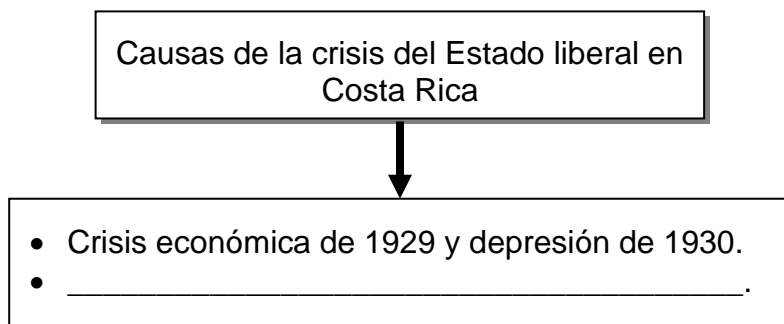
19) Lea la siguiente información:



Según la información anterior, ¿cuál fue una característica de la población costarricense en el año 2000?

- A) Predominio de personas adultas mayores.
- B) Mayor número de población masculina de 80 años o más.
- C) Bajos porcentajes de población entre los 0 y los 4 años de edad.
- D) Altos porcentajes de población joven entre los 5 y 24 años de edad.

20) Lea el siguiente esquema:



¿Cuál opción completa correctamente el esquema anterior?

- A) Guerra Fría
- B) Paz armada
- C) Revolución rusa
- D) Primera Guerra Mundial

21) Lea las siguientes características:

1. La base de las exportaciones eran los granos básicos.
2. El capital extranjero prevalecía en las actividades económicas.
3. Los principales mercados compradores eran África y Asia.
4. El Estado cumplía funciones básicas de leyes e infraestructura.

¿Cuáles números de los anteriores identifican dos características del modelo agroexportador en Costa Rica?

- A) 1 y 2
- B) 1 y 3
- C) 2 y 4
- D) 3 y 4

- 22) Durante la administración de Alfredo González Flores se estableció el sistema de Tributación Directa con el objetivo de
- A) lograr un pago justo y progresivo de los impuestos.
 - B) eliminar el cobro de impuestos a las clases asalariadas.
 - C) financiar la creación de cooperativas para los trabajadores urbanos.
 - D) redistribuir el pago de impuestos entre los sectores exportador y patronal.

- 23) Lea el siguiente texto:

En 1916, este ente financiero estableció su Sección Hipotecaria con el fin de colaborar con los pequeños y los medianos propietarios. El deudor fue facultado para hipotecar su tierra por una determinada suma de dinero y para recibir los bonos respectivos a cambio. Los bonos podían ser negociados o permanecer como garantía del préstamo. Los préstamos eran a largo plazo y con un interés no mayor al 8 % anual.

Adaptado de <https://www.nacion.com>

El texto anterior hace referencia al ente financiero creado durante la administración de Alfredo González Flores denominado Banco

- A) Nacional.
- B) Crédito Agrícola Cartaginés.
- C) Internacional de Costa Rica.
- D) Popular y de Desarrollo Comunal.

24) Lea la siguiente información:

- Lucharon junto a los trabajadores bananeros en la huelga de 1934.
- Fue el primer partido político ideológico de Costa Rica, fundado en enero de 1923.
- Muchos de sus militantes se formaron en la lucha contra la dictadura de los Tinoco.
- Manuel Mora Valverde y Carlos Luis Fallas Sibaja fueron representantes de este partido.

¿A cuál partido político hace referencia la información anterior?

- A) Unión Nacional
- B) Republicano
- C) Reformista
- D) Comunista

25) Para las primeras décadas del siglo XX, los movimientos sociales luchaban por sus derechos desde diferentes espacios; tal es el caso de los productores de café quienes pugnaban por la fijación de precios del grano para evitar abusos por parte de los beneficiadores, mientras las mujeres luchaban por

- A) los derechos políticos.
- B) la igualdad económica.
- C) la emancipación familiar.
- D) los derechos reproductivos.

26) Lea la siguiente información:

1. Despido de trabajadores.
2. Revalorización de la moneda nacional.
3. Disminución del problema inflacionario.
4. Aumento de los salarios de los empleados públicos.

¿Cuál número de los anteriores identifica una consecuencia de la crisis de 1929 en Costa Rica?

- A) 1
- B) 2
- C) 3
- D) 4

27) Lea el siguiente texto:

«Costa Rica declaró la guerra al imperio de Japón el 8 de diciembre de 1941 tras el ataque a la base naval de Pearl Harbor en Estados Unidos. El presidente de entonces, Rafael Ángel Calderón Guardia, brindó su apoyo a los aliados y extendió esta declaratoria a Alemania e Italia el 11 de diciembre del mismo año, incluso horas antes que lo hiciera el propio país norteamericano».

Recuperado de <http://www.archivonacional.go.cr>

El texto anterior está relacionado con el acontecimiento histórico mundial denominado

- A) Paz Armada.
- B) Gran Guerra.
- C) Depresión de 1930.
- D) Segunda Guerra Mundial.

28) Lea la siguiente información:

Consecuencias de la Segunda Guerra Mundial para Costa Rica



- Se dio la crisis del modelo agroexportador.
- Se establecieron las garantías sociales.
- _____.

¿Cuál opción completa correctamente la información anterior?

- A) Se instauró el patrón oro.
- B) Inició el desarrollo del modelo industrial.
- C) Desaparecieron los grupos obreros organizados.
- D) Se recibió mayor influencia de la Unión Soviética.

29) Lea la siguiente información:

Código de Trabajo
1943

- Libertad de sindicalización.
- _____
- Jornada laboral diurna de 8 horas.

¿Cuál opción completa correctamente la información anterior?

- A) Protección a la familia.
- B) Derecho al salario mínimo.
- C) Programas de calzado escolar.
- D) Igualdad de derechos en el matrimonio.

30) Lea la siguiente información:

Instituciones de Costa Rica

1. Caja Costarricense de Seguro Social	2. Universidad de Costa Rica	3. Tribunal Supremo de Elecciones	4. Universidad Nacional
			

¿Cuáles números de los anteriores identifican dos instituciones que forman parte de la reforma social de 1940?

- A) 1 y 2
- B) 1 y 4
- C) 2 y 3
- D) 3 y 4

31) ¿Cuál fue una causa de la guerra civil de 1948 en Costa Rica?

- A) Fraude electoral
- B) Huelga de Brazos Caídos
- C) Instauración del voto directo
- D) Aprobación de las garantías individuales

32) Lea la siguiente información:

- Se propuso un proyecto político de reforma estatal y modernización del país.
- La nacionalización bancaria tuvo un papel decisivo en el crecimiento económico del Estado.
- Se creó el Instituto Costarricense de Electricidad para impulsar la producción de energía eléctrica y el desarrollo de las telecomunicaciones del país.

La información anterior evidencia algunas transformaciones ocurridas en Costa Rica como consecuencia de

- A) la guerra de Coto.
- B) la guerra Civil de 1948.
- C) el intento de invasión de 1955.
- D) el golpe de Estado de los Tinoco.

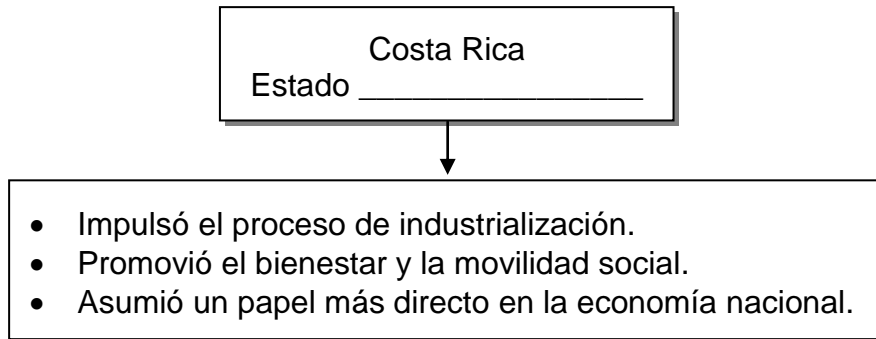
33) Lea la siguiente información:

1. Ministerio de Trabajo y Seguridad Social.
2. Organismo de Investigación Judicial.
3. Patronato Nacional de la Infancia.
4. Instituto Costarricense de Acueductos y Alcantarillados.

¿Cuáles números de los anteriores identifican dos instituciones autónomas de Costa Rica?

- A) 1 y 2
- B) 1 y 3
- C) 2 y 4
- D) 3 y 4

34) Lea la siguiente información:



¿Cuál opción completa correctamente la información anterior?

- A) liberal
- B) gestor
- C) federal
- D) patriarcal

35) ¿Cuál fue una característica del modelo de sustitución de importaciones en Costa Rica?

- A) Buscó reemplazar los bienes importados por bienes producidos localmente.
- B) Aumentó la producción y exportación de los productos tradicionales.
- C) Eximió el pago de impuestos a los trabajadores de las maquilas.
- D) Desplazó la producción industrial por la artesanal.

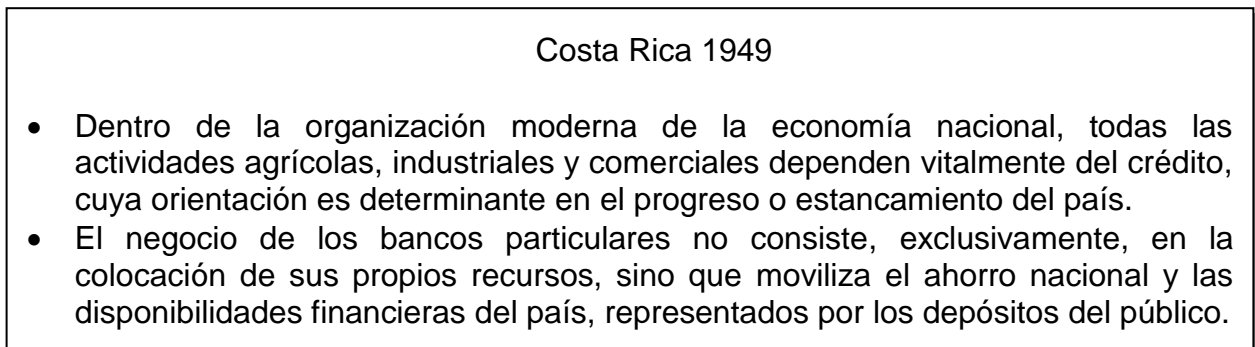
36) Lea la siguiente información:



La información anterior permite identificar el papel que desempeñó el Estado con el fin de implementar el modelo económico denominado

- A) de desarrollo hacia adentro.
- B) de desarrollo hacia afuera.
- C) de diversificación agrícola.
- D) monocultivista.

37) Lea la siguiente información:



La información anterior identifica aspectos relacionados con

- A) la nacionalización bancaria.
- B) el establecimiento de la banca mixta.
- C) la privatización del sistema financiero nacional.
- D) el apoyo crediticio a todas las actividades del sector primario.

- 38) ¿Cuál fue una estrategia implementada por el Estado costarricense con el modelo sustitutivo de importaciones?
- A) Dotación de mano de obra calificada a través de colegios técnicos y el Instituto Nacional de Aprendizaje.
 - B) Exoneración de requisitos académicos para el ingreso a carreras universitarias en la rama técnica.
 - C) Creación de colegios universitarios técnicos en todas las cabeceras de provincia.
 - D) Declaración de la educación general básica y diversificada gratuita y obligatoria.

- 39) Lea la siguiente información:

La movilidad social se basa en la mejora de ingresos que permite asegurar la satisfacción de las necesidades básicas, pero también implica una transformación en múltiples aspectos: acceso a la recreación, a las artes, a la literatura, a la tecnología, a diferentes formas de pensar la vida y la sociedad y a socializar con grupos más amplios, entre otros aspectos.

Adaptado de semanariouniversidad.com

La información anterior hace referencia a la movilidad social en Costa Rica a partir de los años de 1950, que favoreció el surgimiento de la clase

- A) industrial.
 - B) obrera.
 - C) media.
 - D) alta.
- 40) En la segunda mitad del siglo XX (1950-2000) el sistema político costarricense se caracterizó principalmente por el predominio del
- A) bipartidismo.
 - B) unipartidismo.
 - C) antipartidismo.
 - D) multipartidismo.

- 41) A partir de 1950 como sugerencia de la Comisión Económica para América Latina (CEPAL), Costa Rica inició con el proceso de
- A) industria sin chimeneas.
 - B) firma de tratados de libre comercio.
 - C) aumento de las zonas para el cultivo de café orgánico.
 - D) producción manufacturera de zapatos, textiles y alimentos.

- 42) Lea la siguiente información:

Logros en Costa Rica a partir de 1950 en el ámbito_____	
Erradicación de enfermedades como la polio y la difteria.	Incremento de la esperanza de vida.
Aumento de la tasa de natalidad.	Reducción de la mortalidad infantil.

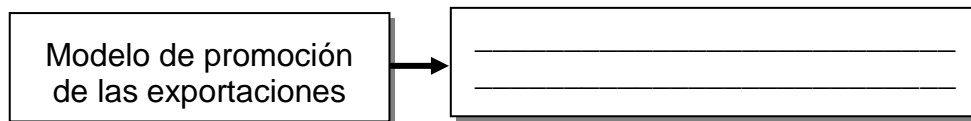
¿Cuál opción completa correctamente la información anterior?

- A) de movilidad social
 - B) económico
 - C) ambiental
 - D) de salud
- 43) ¿Cuál fue un factor externo que originó la crisis del modelo de sustitución de importaciones en Costa Rica a partir de 1980?
- A) El acelerado crecimiento en el precio de los hidrocarburos.
 - B) La disminución de los precios de los artículos de lujo.
 - C) La baja en la venta de productos no tradicionales.
 - D) El aumento de la demanda de textiles en Asia.

44) A partir de 1950 el sector industrial se convirtió en un importante impulsor del desarrollo en Costa Rica ya que

- A) prescindió de la inversión extranjera.
- B) generó nuevas oportunidades de empleo.
- C) aumentó la dependencia del modelo agroexportador.
- D) eliminó los impuestos a los productos manufacturados.





45) Lea la siguiente información:



¿Cuál opción completa correctamente la información anterior?

- A) Se aplicó en Costa Rica a partir de 1914 y se consolidó para la década de 1930.
- B) Impulsó el cultivo y comercialización de productos tradicionales y no tradicionales.
- C) Fue el causante de conflictos al interior del país que culminaron con la guerra civil de 1948.
- D) Limitó las relaciones internacionales, especialmente si se trataba de países desarrollados.


46) Lea la siguiente información:

			
1. Café	2. Pejibaye	3. Banano	4. Macadamia

¿Cuáles números de los anteriores identifican dos productos de exportación no tradicionales en Costa Rica?

- A) 1 y 3
- B) 1 y 4
- C) 2 y 3
- D) 2 y 4

47) Lea la siguiente información:

	<p>En la defensa por la paz y el respeto a los descendientes de los mayas esta mujer indígena expresó: «La paz es hija de la convivencia, de la educación, del diálogo. El respeto a las culturas milenarias hace nacer la paz en el presente».</p> <p>Su lucha la hizo merecedora del Premio Nobel de la Paz en 1992.</p>
Rigoberta Menchú	

La información anterior se refiere al proceso de pacificación en el país centroamericano de

- A) El Salvador.
- B) Guatemala.
- C) Nicaragua.
- D) Honduras.

48) Lea la siguiente información:

Fundado el 28 de octubre de 1991
Sede: Ciudad de Guatemala



- Servir de foro deliberativo para el análisis de los asuntos políticos, económicos, de seguridad, sociales y culturales, comunes del área centroamericana.
- Impulsar y orientar los procesos de integración y la más amplia cooperación entre los países centroamericanos.

¿Cuál opción completa correctamente la información anterior?

- A) Esquipulas II
- B) Plan Puebla Panamá
- C) Parlamento Centroamericano
- D) Sistema de Integración Centroamericano

49) Lea la siguiente información:


Tormenta Nate (2017): lluvia y basura, una desastrosa combinación

- Este fenómeno natural destruyó carreteras, cientos de hectáreas de producción agrícola, casas de habitación, automóviles y hasta centros educativos.
- La magnitud del evento se vio incrementado por la basura, miles de toneladas de toda clase de desechos salieron a flote, evidenciando una sociedad que no tiene cultura en la disposición correcta de los residuos sólidos.

La información anterior plantea un desafío a la sociedad costarricense relacionado con

- A) el manejo adecuado de los desechos sólidos.
- B) el traslado de centros urbanos y de producción a zonas seguras.
- C) la desatención de cualquier tipo de fenómeno natural de gran magnitud.
- D) la búsqueda de soluciones para evitar que el país se vea afectado por las tormentas.

50) Observe las siguientes imágenes:



Las imágenes anteriores están relacionadas con un desafío para la sociedad costarricense en el siglo XXI en materia de

- A) equidad y exclusión.
- B) tratados comerciales.
- C) inversiones inmobiliarias.
- D) población económicamente activa.

Solucionario

ESTUDIOS SOCIALES PROGRAMA BACHILLERATO A TU MEDIDA 02-2019 RESOLUCIÓN DE LA PRÁCTICA (C)

Ítem	Clave	Ítem	Clave
1	C	26	A
2	D	27	D
3	B	28	B
4	D	29	B
5	A	30	A
6	B	31	A
7	D	32	B
8	A	33	D
9	B	34	B
10	D	35	A
11	B	36	A
12	B	37	A
13	A	38	A
14	B	39	C
15	A	40	A
16	B	41	D
17	D	42	D
18	A	43	A
19	D	44	B
20	D	45	B
21	C	46	D
22	A	47	B
23	C	48	C
24	D	49	A
25	A	50	A